

Контурные карты по истории Древнего Рима



Ахиев С.Н.
Савинов А.А.
Чурекова Н.Б.

Ахиев С.Н., Савинов А.А., Чурекова Н.Б.

Контурные карты по истории Древнего Рима: Учебно-методическое пособие для студентов специальности «История»

Данное учебно-методическое пособие предназначено для студентов всех форм обучения, изучающих историю Древнего Рима. Контурные карты отражают ключевые вопросы курса римской истории, разработаны в полном соответствии с требованиями обязательного минимума образования и могут быть использованы в качестве учебно-методического пособия для закрепления теоретических знаний.

Для студентов, преподавателей и всех интересующихся историей Древнего Рима.

Методические рекомендации по работе с контурными картами по истории Древнего Рима

Контурные карты являются одним из важных практических средств обучения истории. Работа с контурными картами воспитывает дисциплинированность, способствует развитию внимательности, точности, аккуратности. Карты используются в течение всего учебного семестра для закрепления изученного материала, контроля знаний и умений, а также в качестве заданий для самостоятельного обучения. Важной задачей работы с контурными картами является развитие навыков чтения исторических карт, атласов и схем. Кроме того, выполнение заданий потребует обращения к специальной учебной и научной литературе, справочным изданиям. Ряд заданий основан на проверке знаний, полученных студентами в ходе самостоятельной работы.

Основная цель данного атласа контурных карт – сделать процесс изучения истории Древнего Рима более интересным и привлекательным для студентов. Сами контурные карты служат для нанесения на них условных обозначений в соответствии с предлагаемыми заданиями (определение границ территорий, мест и дат важнейших событий, направлений походов и т.д.). Данный вид практической деятельности максимально использует зрительную память, что позволяет лучше усвоить учебный материал. В ходе выполнения заданий студенты учатся творческому применению имеющихся знаний, что способствует развитию навыков самостоятельной обработки полученных результатов, их анализа и осмысления.

Задания к контурным картам служат получению и закреплению знаний в нескольких направлениях:

- определение границ территорий и областей (в целях свободной ориентации на политической карте);

- поиск на карте важных историко-географических объектов (для формирования пространственных представлений об их размещении);

- выявление динамики территориальных изменений на политической карте региона (определение направлений походов, последовательность вхождения отдельных областей в состав римского государства и т.д.).

К каждой карте прилагается система разноуровневых заданий, ориентированных на закрепление знаний ключевых событий истории Древнего Рима – от простого воспроизводства материала исторических атласов, карт и схем до нанесения на карту результатов творчески обработанных сведений специальной научной исторической литературы. Задания способствуют развитию самостоятельности в мышлении, а также помогают выработке профессиональных исследовательских навыков (постановка проблемной ситуации, всестороннее исследование вопроса, выделение ключевых данных и выработка выводов).

Задания учебно-методического пособия составлены с учетом содержания лекционного курса истории Древнего Рима.

Работа с контурными картами проходит в 3 этапа:

1. Работа со справочной информацией (ознакомление с рекомендуемой учебной и научной литературой, справочниками, картами, энциклопедиями)

2. Обработка материала (выделение ключевой информации, необходимой для ответа на задания)

3. Работа с графикой (определение необходимых условных обозначений, цвета зарисовки и т.п.).

Приступая к работе с контурными картами по истории Древнего Рима, студентам необходимо ознакомиться с рекомендуемой по данной теме учебной и научной литературой.

Далее следует продумать оформление системы условных обозначений и подобрать цветовую гамму закрашиваемых территорий.

На специально отведенном участке контурной карты нужно нанести условные знаки, необходимые для ответа на вопросы задания и аккуратно их подпишите (стрелки для обозначения направлений походов, линии границ, цвета для различных территорий, символы городов, мест сражений и т.д.). Делать надписи лучше мелкими печатными буквами и цифрами вблизи от соответствующего условного знака.

При подборке цветовой гаммы следует обратить внимание на контрастность цветов. При этом они не должны быть слишком яркими или излишне темными, что затруднило бы прочтение нанесенных условных обозначений и надписей. Лучше использовать цветные карандаши, поскольку маркеры и фломастеры впитываются в бумагу и могут повредить другой карте, помещенной на оборотной стороне листа. Необходимо

следить, чтобы карандаш не выходил за границы закрашиваемой территории. Работа по закрашиванию территорий должна предварять этап нанесения на карту условных обозначений и надписей.

Саратовский государственный университет имени Н. Г. Чернышевского

ЛИТЕРАТУРА

- Гиббон Э. История упадка и крушения Римской империи. М., 2001.
- Грант М. Крушение Римской империи. М., 1998.
- Дельбрюк Г. История военного искусства. М., 2005. Том .1 Античный мир.
- Златковская Т.Д. Мезия в I–II вв. н. э. М., 1951.
- История древнего мира / Под ред. И.М. Дьяконова, В.Д. Нероновой, И.С. Свенцицкой. М., 1989. Кн. 2–3.
- История древнего Рима / Под ред. В.И. Кузищина. М., 2000.
- Ковалев С.И. История древнего Рима. СПб., 2002.
- Колосовская Ю.К. Паннония в I–III веках. М., 1973.
- Кругликова И.Т. Дакия в эпоху римской оккупации. М., 1955.
- Кузищин В.И. История древнего Рима. (Любое издание).
- Кузищин В.И., Бокщанин А.Г. История Древнего Рима. М., 1971.
- Машкин Н.А. История древнего Рима. М., 1956.
- Моммзен Т. История Рима. (Любое издание)
- Немировский А.И. История раннего Рима и Италии. Воронеж, 1962.
- Сергеев В.С. Очерки по истории древнего Рима. М., 1938.
- Утченко С.Л. Древний Рим. События. Люди. Идеи. М., 1969.
- Утченко С.Л. Кризис и падение Римской республики. М., 1965.
- Ферреро Г. Величие и падение Рима. М., 1997–1998. Т. I–II.
- Штаерман Е.М. Кризис рабовладельческого строя в западных провинциях Римской империи. М., 1957.

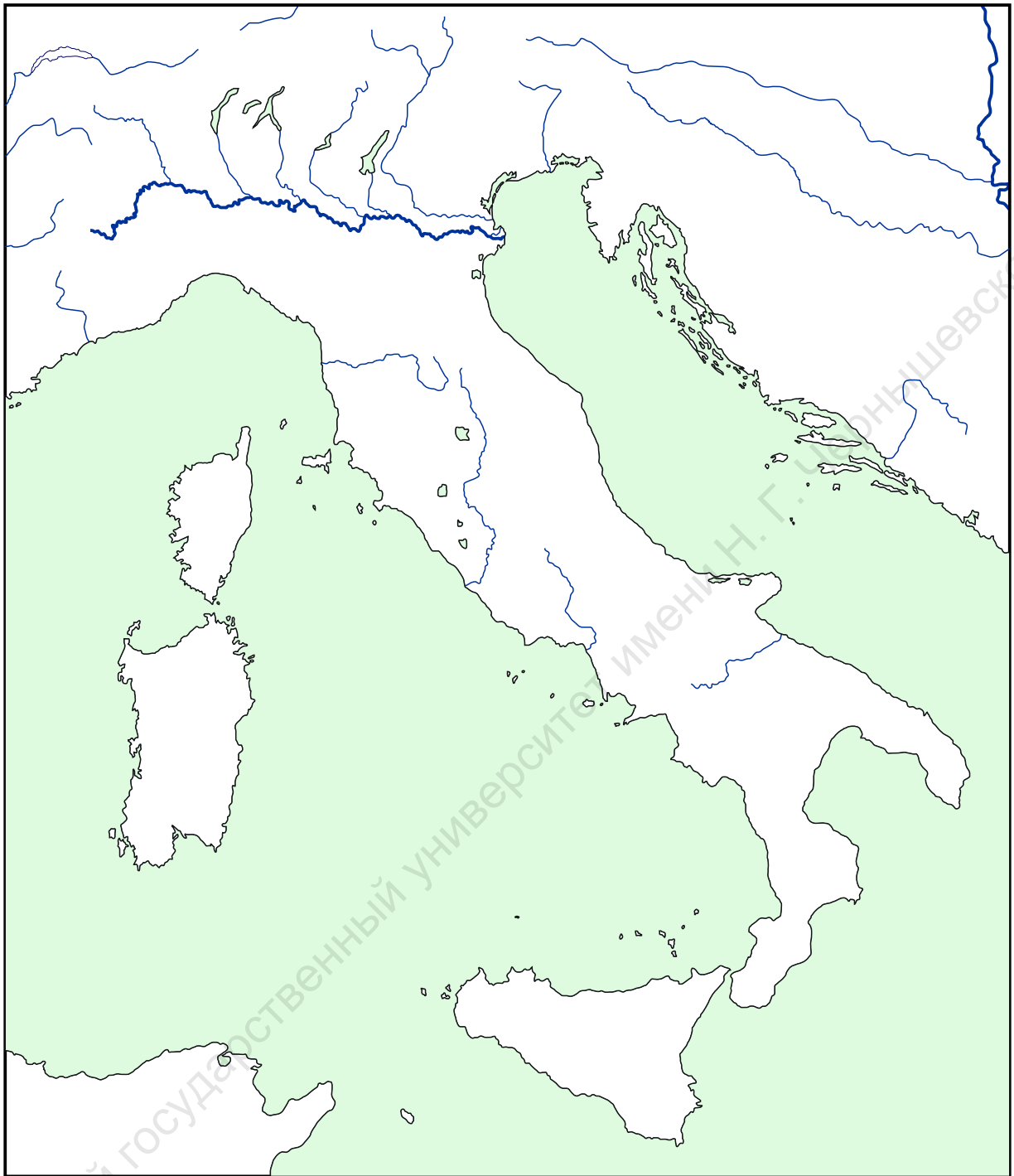
РЕСУРСЫ ИНТЕРНЕТА

- <http://ancientrome.ru/map/index.htm>
- <http://www.xlegio.ru/>
- <http://www.roman-glory.com/>
- <http://www.sno.pro1.ru/>

Список карт

1. Завоевание Римом Италии в конце VI – середине III вв. до н.э.
2. Вторая Пуническая война.
3. Рост Римского государства (III в. до н.э.– II в. н.э.).
4. Римская Британия.
5. Галльские походы Цезаря.
6. Гражданские войны в Риме в 40-е – 30-е гг. до н.э.
7. Германские войны Августа.
8. Рим и Парфия в I в. до н.э. – II в. н.э.
9. Дакийские войны Рима.
10. Падение Западной Римской империи.

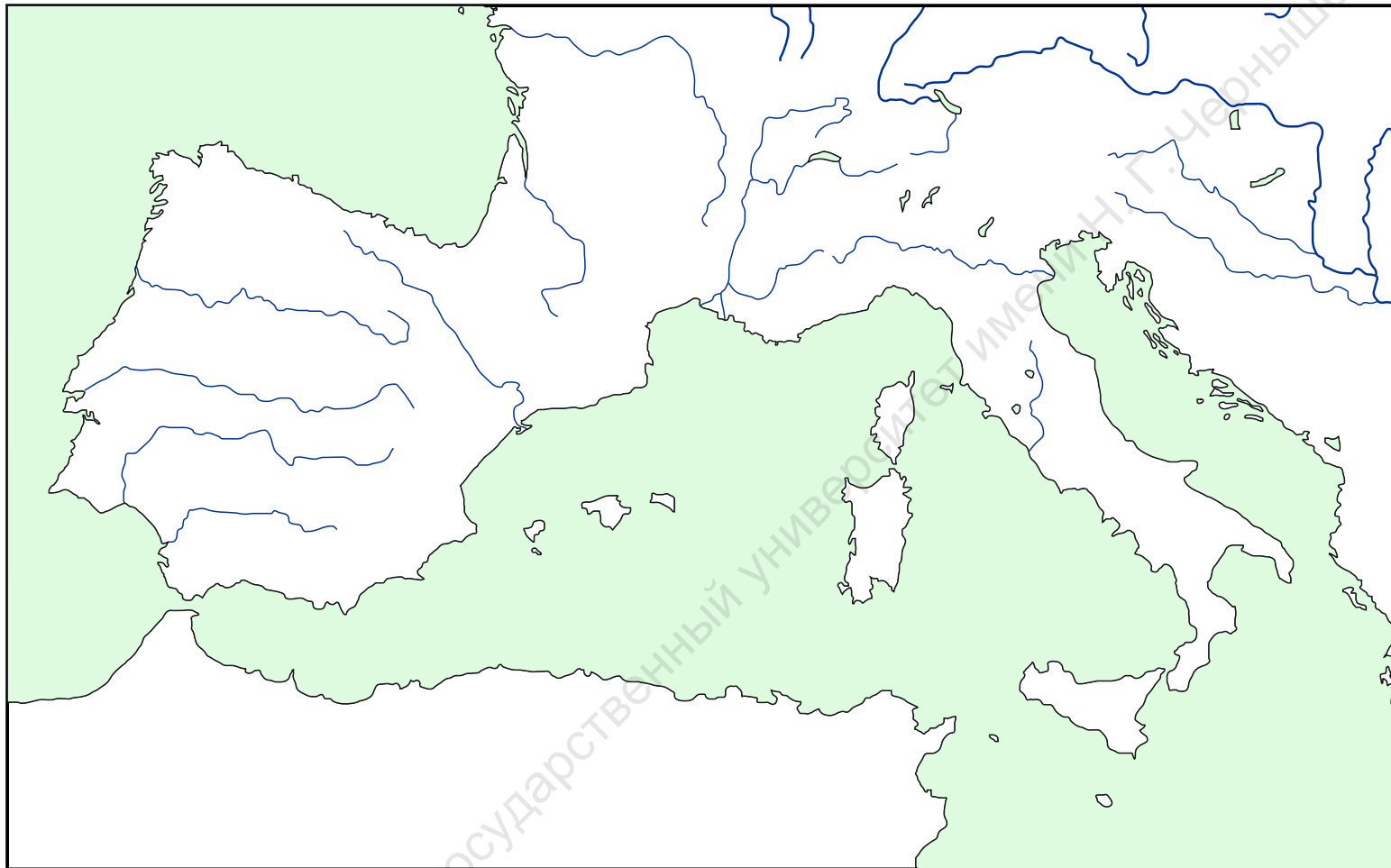
1. Завоевание Римом Италии
в конце VI - середине III вв. до н.э.



1. Отметьте территорию Римской республики к 343 г. до н.э. Укажите Рим и крупнейшие города Италии.
2. Выделите территории расселения крупнейших италийских племен, границы расселения галлов.
3. Обозначьте территории, завоеванные Римом:
 - а) к началу 2-й Самнитской войны;
 - б) к началу войны с Пирром;
 - в) к началу Пунических войн.
4. Укажите места и даты крупнейших сражений в ходе завоевания Италии.

Условные обозначения

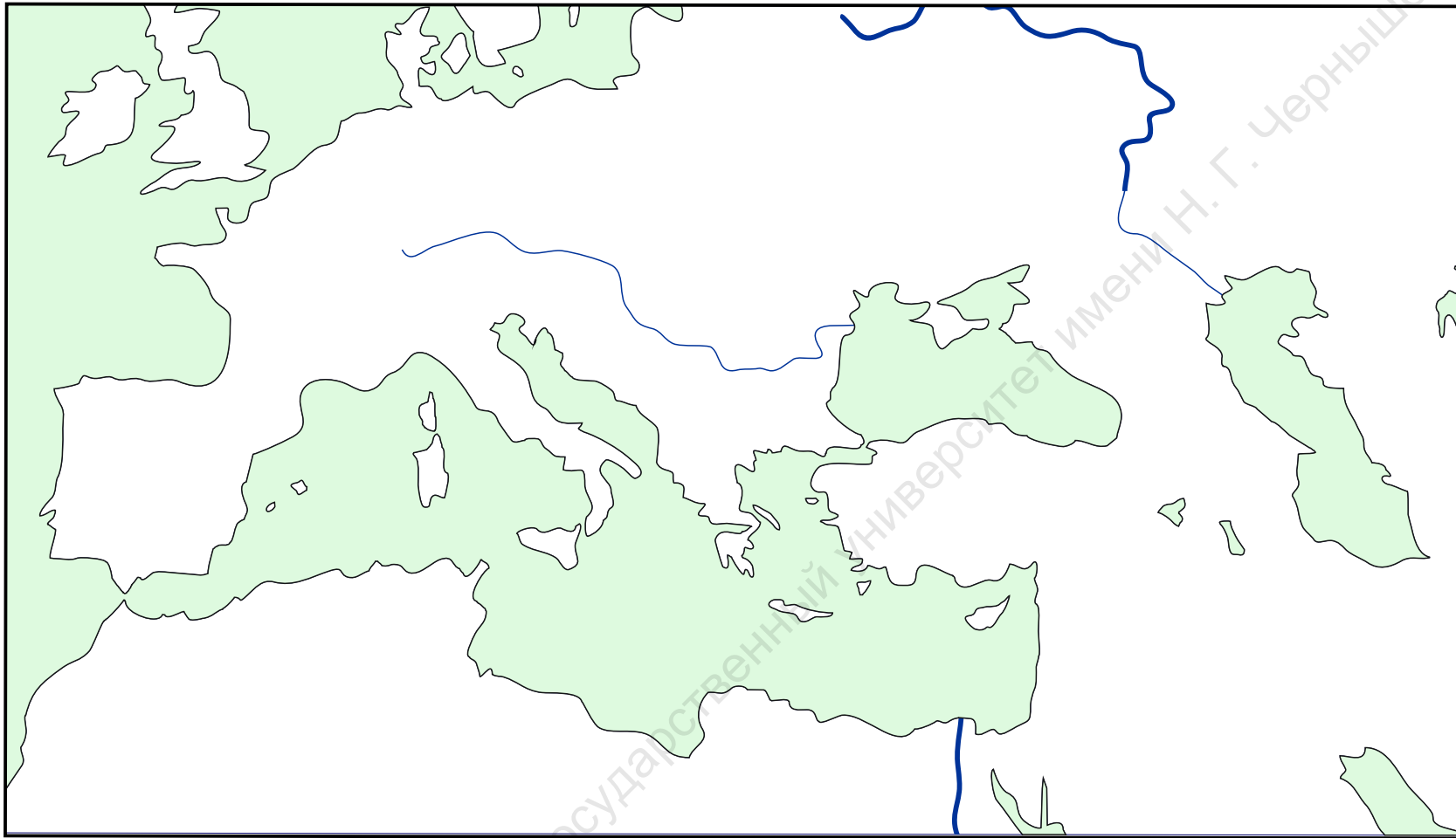
2. Вторая Пуническая война



Условные обозначения

1. Отметьте границы Рима и Карфагена к началу войны.
2. Обозначьте направления походов римских войск.
3. Укажите направления походов Ганнибала, Гасдрубала и Магона.
4. Обозначьте места и даты основных сражений между римлянами и карфагенянами.

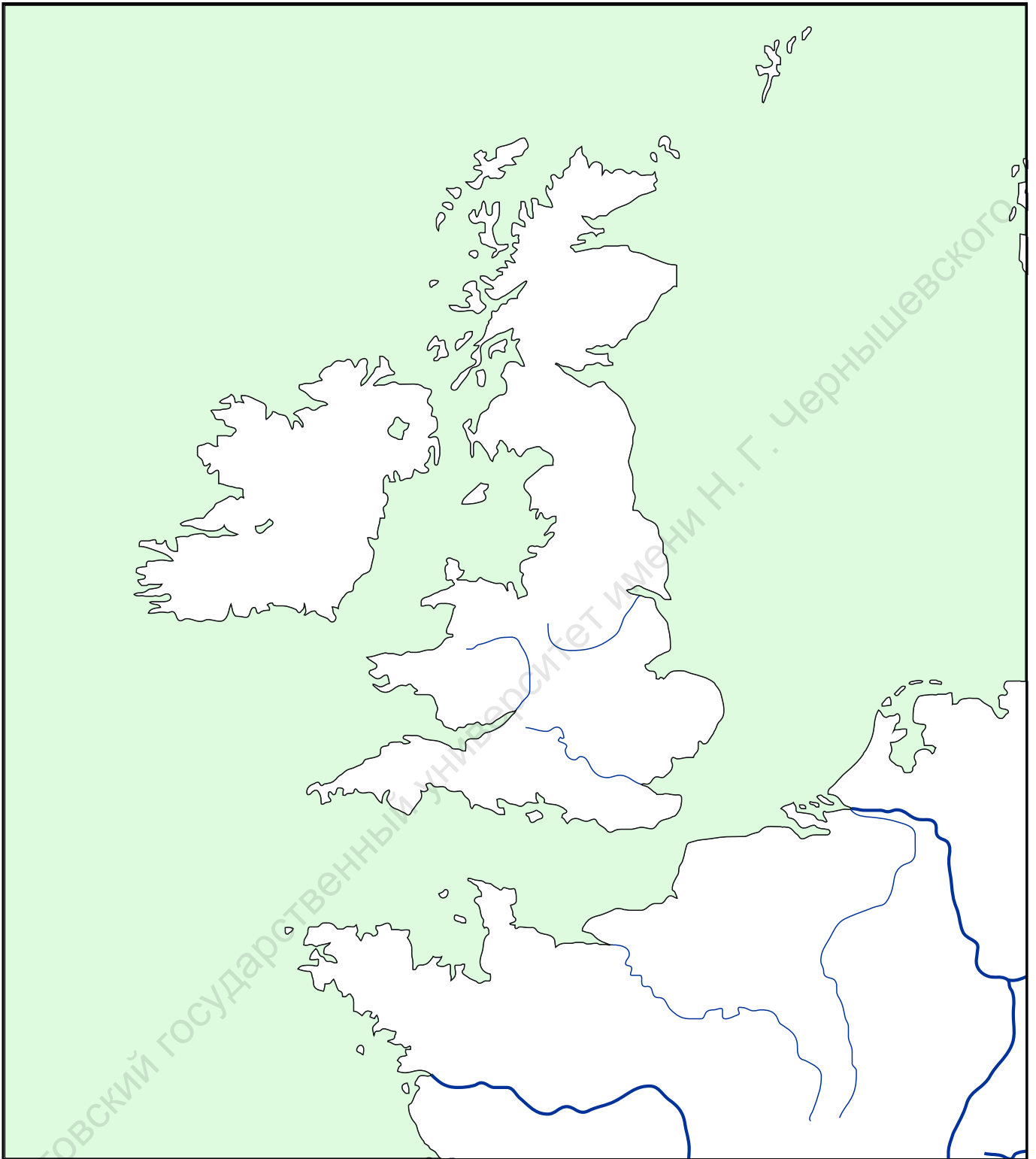
3. Рост Римского государства (III в. до н.э.- II в. н.э.)



Условные обозначения

1. Обозначьте Рим и крупнейшие города Средиземноморья и Причерноморья.
2. Отметьте территорию Римской республики к 264 г. до н.э.
3. Укажите основные направления римских завоеваний, места и даты важнейших сражений.
4. Обозначьте:
 - а) завоевания Римской республики с середины III в. до н.э. по 74 г. до н.э.;
 - б) завоевания Римской республики к 30 г. до н.э.;
 - в) завоевания Римской империи с 30 г. до н.э. по 96 г. н.э.
4. Отметьте границы Римской империи к 117 г. н.э.

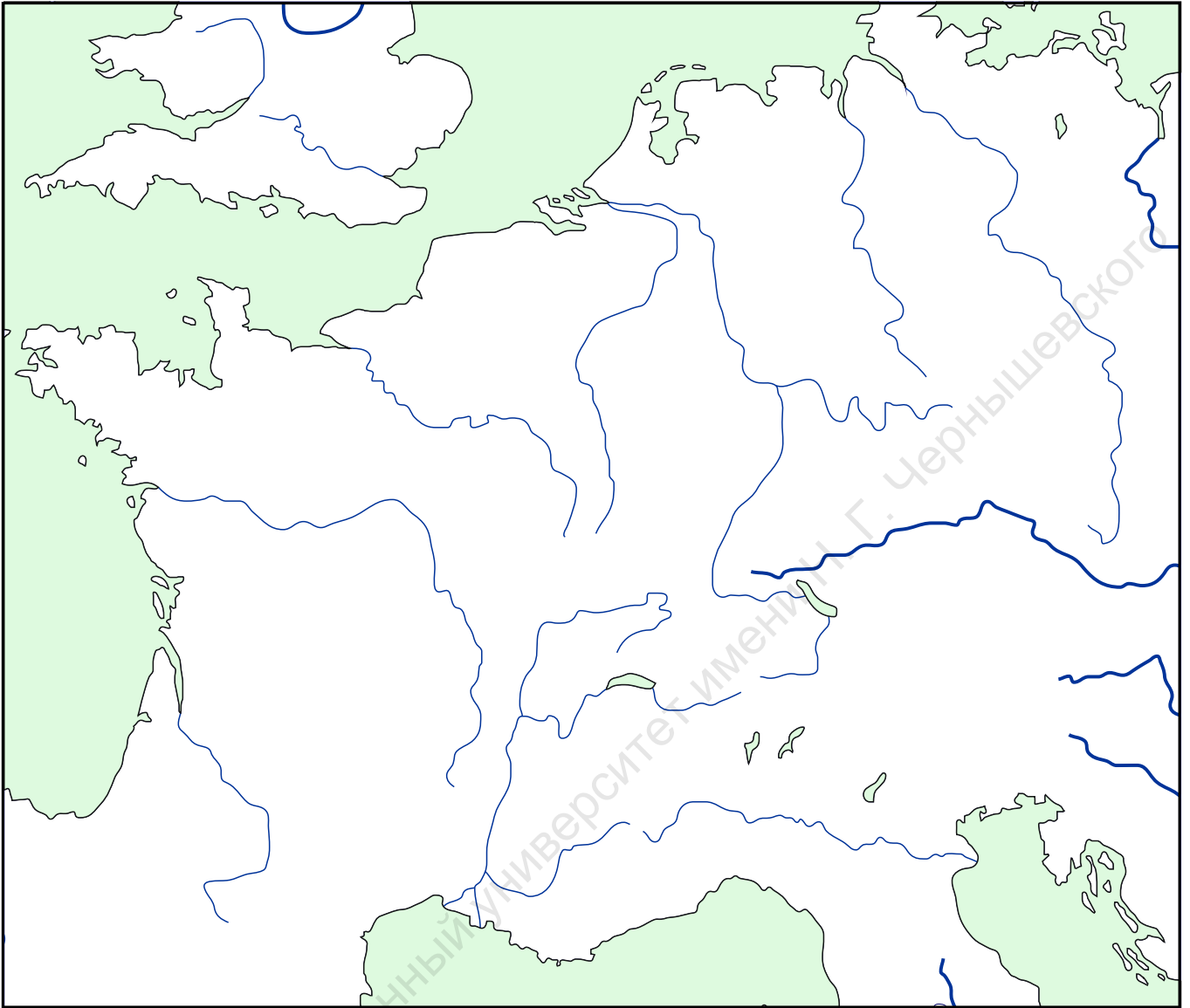
4. Римская Британия



1. Укажите дату завоевания юга Британии при Клавдии. Обозначьте место генерального сражения.
2. Укажите границы римских провинций, отметьте крупнейшие города.
3. Обозначьте вал Адриана и вал Антонина.
4. Обозначьте расселение племен в северной части острова.


Условные обозначения

5. Галльские походы Цезаря

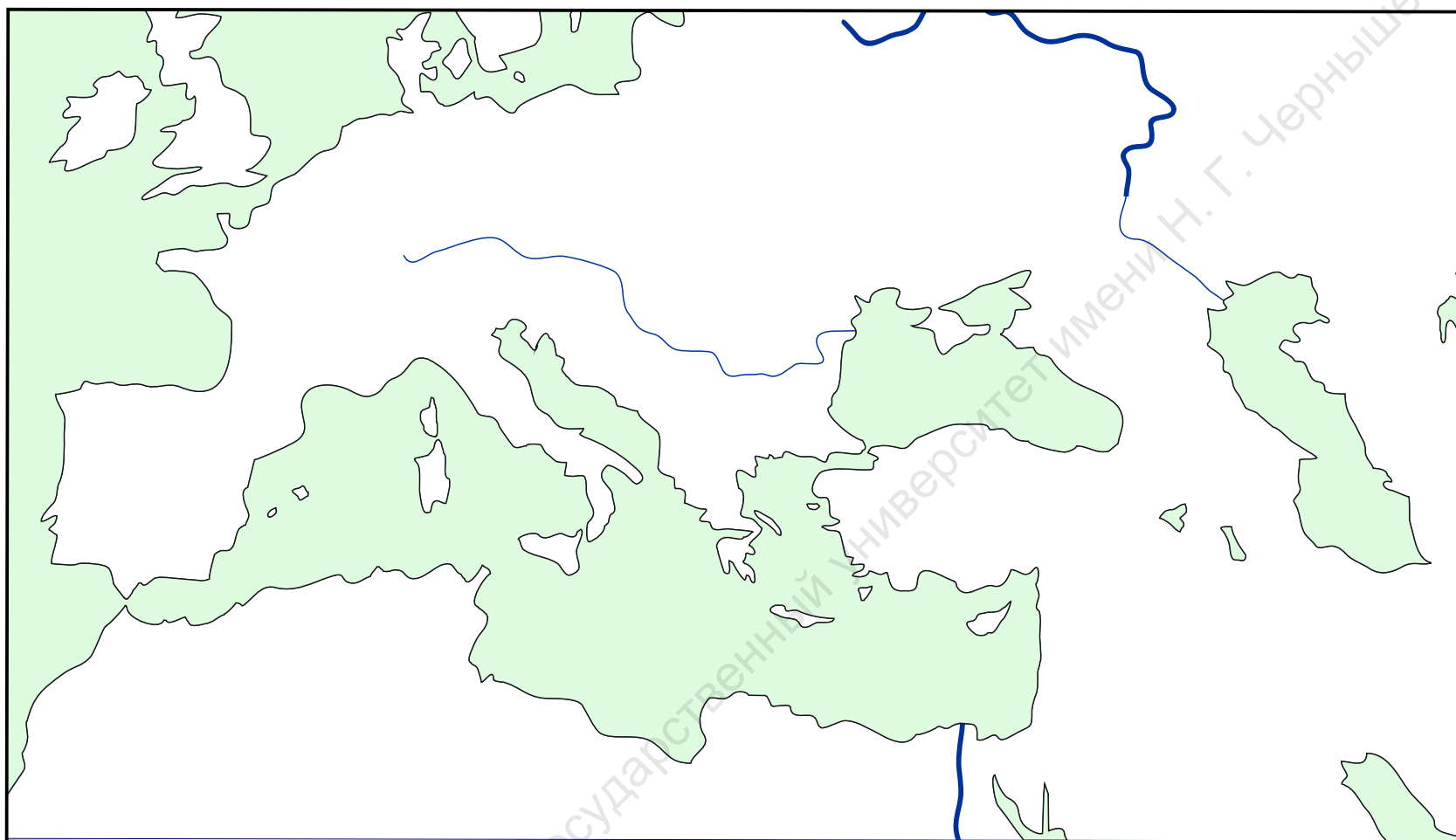


1. Обозначьте границы Цизальпинской, Нарбонской и Дальней Галлии к началу походов Цезаря.
2. Укажите названия крупнейших галльских племен и границы их расселения.
3. Пометьте на карте места сражений войск Цезаря с Верцингеторигом.

Условные обозначения



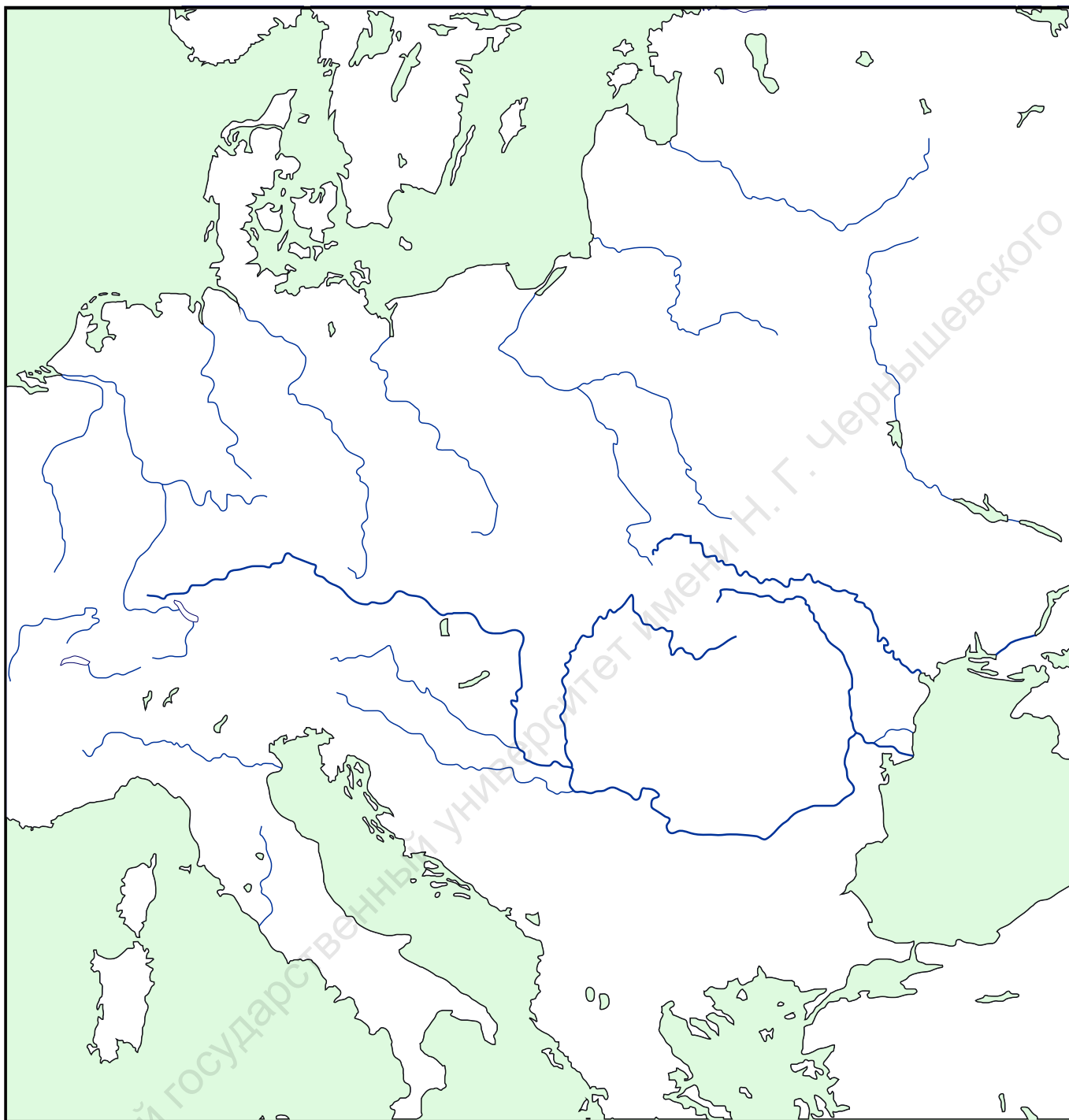
6. Гражданские войны в Риме в 40-е - 30-е гг. до н.э.



Условные обозначения

1. Обозначьте границы Римской республики к 49 г. до н.э.
2. Укажите провинции, находившиеся под властью «республиканцев» в 42 г. до н.э.
3. Обозначьте границы провинций, находившихся под управлением каждого из триумвиров в начале 36 г. до н.э.
4. Выделите границы владений, подконтрольных Сексту Помпею.
5. Обозначьте направления походов Цезаря, Антония и Октавиана.
6. Укажите места и даты важнейших сражений гражданских войн 44–30 гг. до н.э.

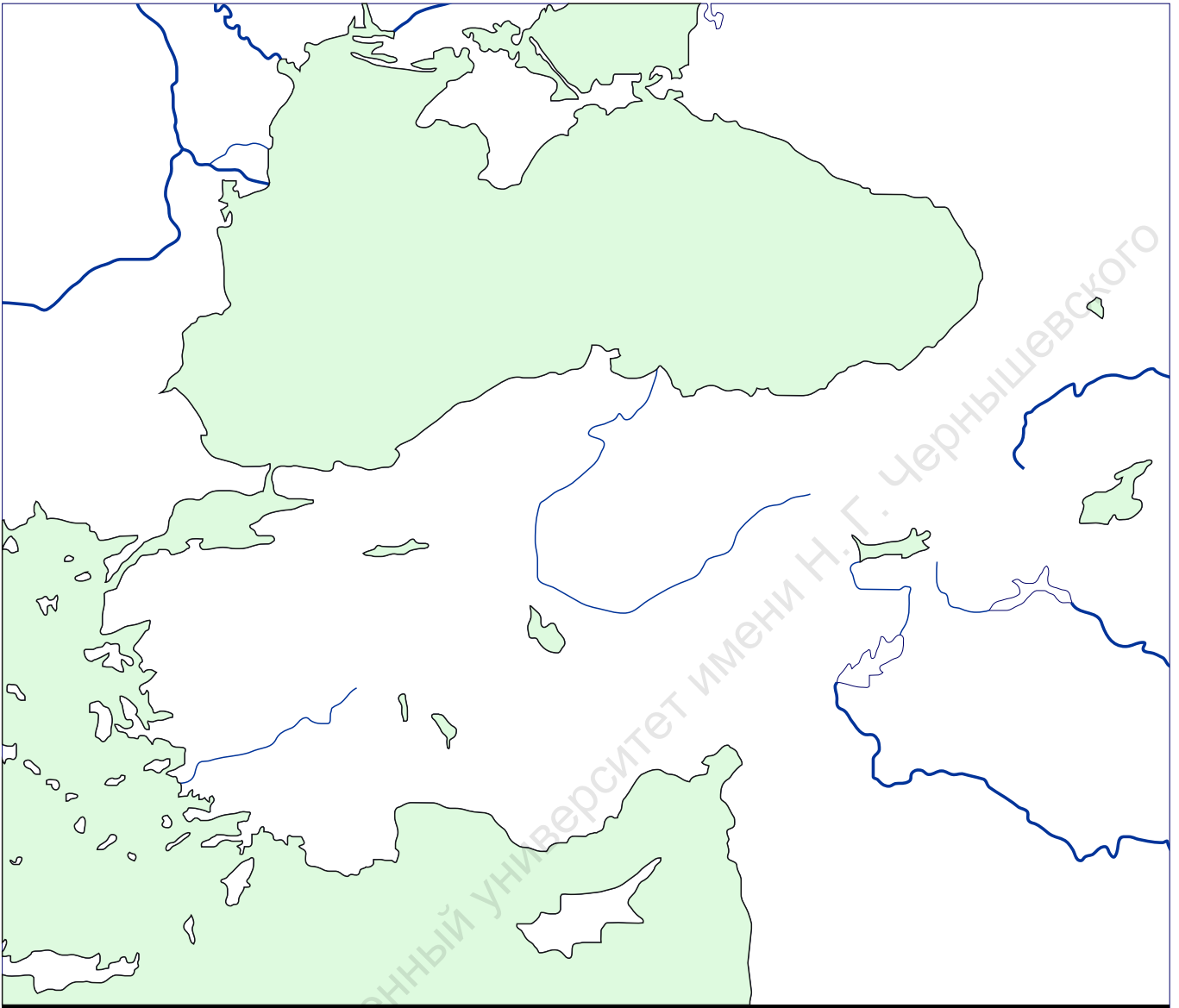
7. Германские войны Августа



1. Обозначьте границы римских провинций к 12 г. до н.э. Укажите места расселения основных германских племен.
2. Укажите даты и направления морского и сухопутных походов Друза Старшего в 12-9 гг. до н.э.
3. Отметьте линию максимального продвижения римлян в Германии.
4. Обозначьте территорию, охваченную Великим иллирийским восстанием 6-9 гг. н.э.
5. Укажите место и дату битвы в Тевтобургском лесу.

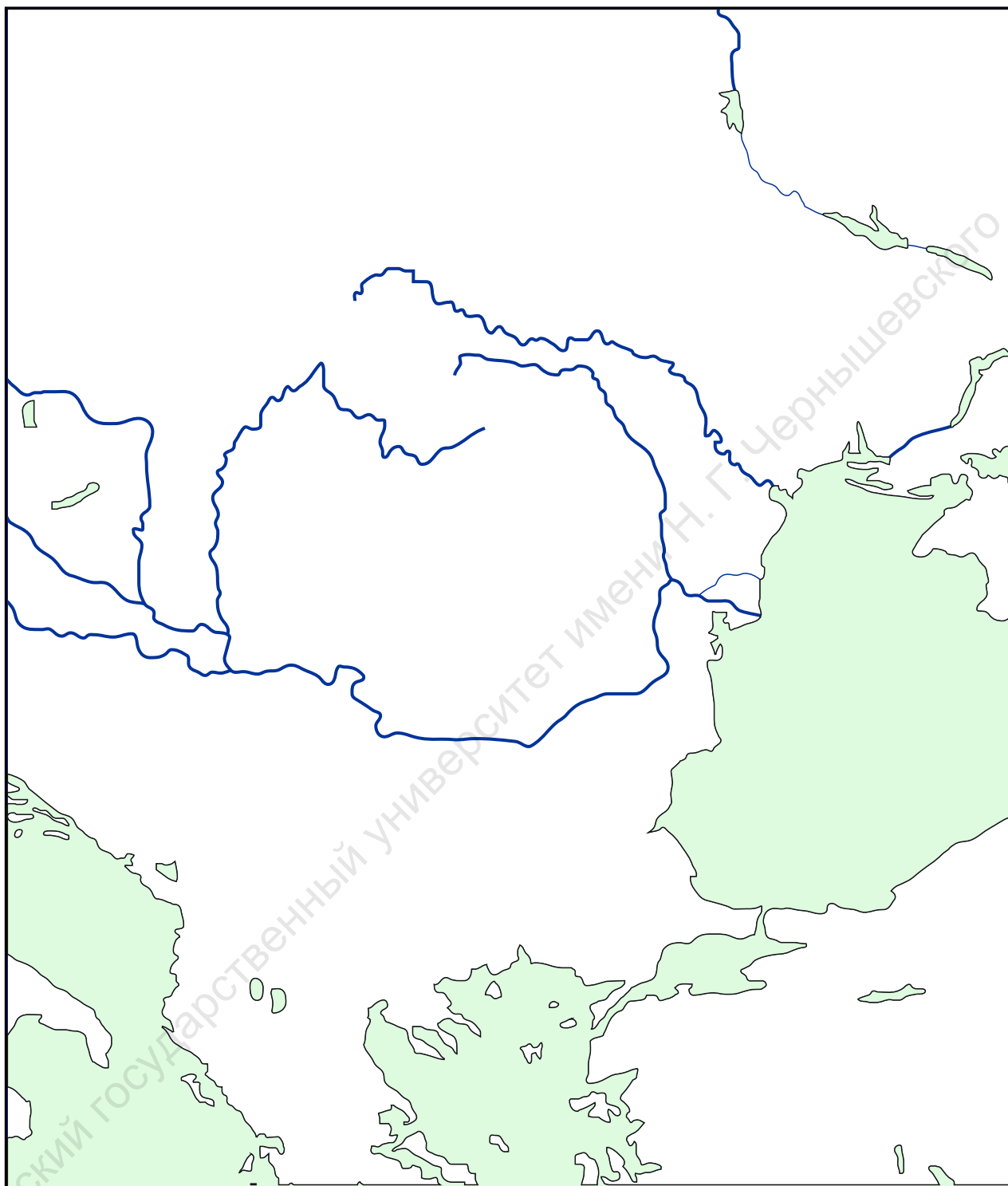
Условные обозначения

8. Рим и Парфия в I в. до н.э. - II в. н.э.



1. Обозначьте города и государства Ближнего Востока.
2. Укажите границу между Римской державой и Парфянским царством в I в. до н.э.
3. Стрелками укажите направление похода Красса и отступления римлян, обозначьте место и дату битвы при Каррах.
4. Изобразите на карте парфянскую кампанию Траяна, отметьте присоединенные Римом территории.

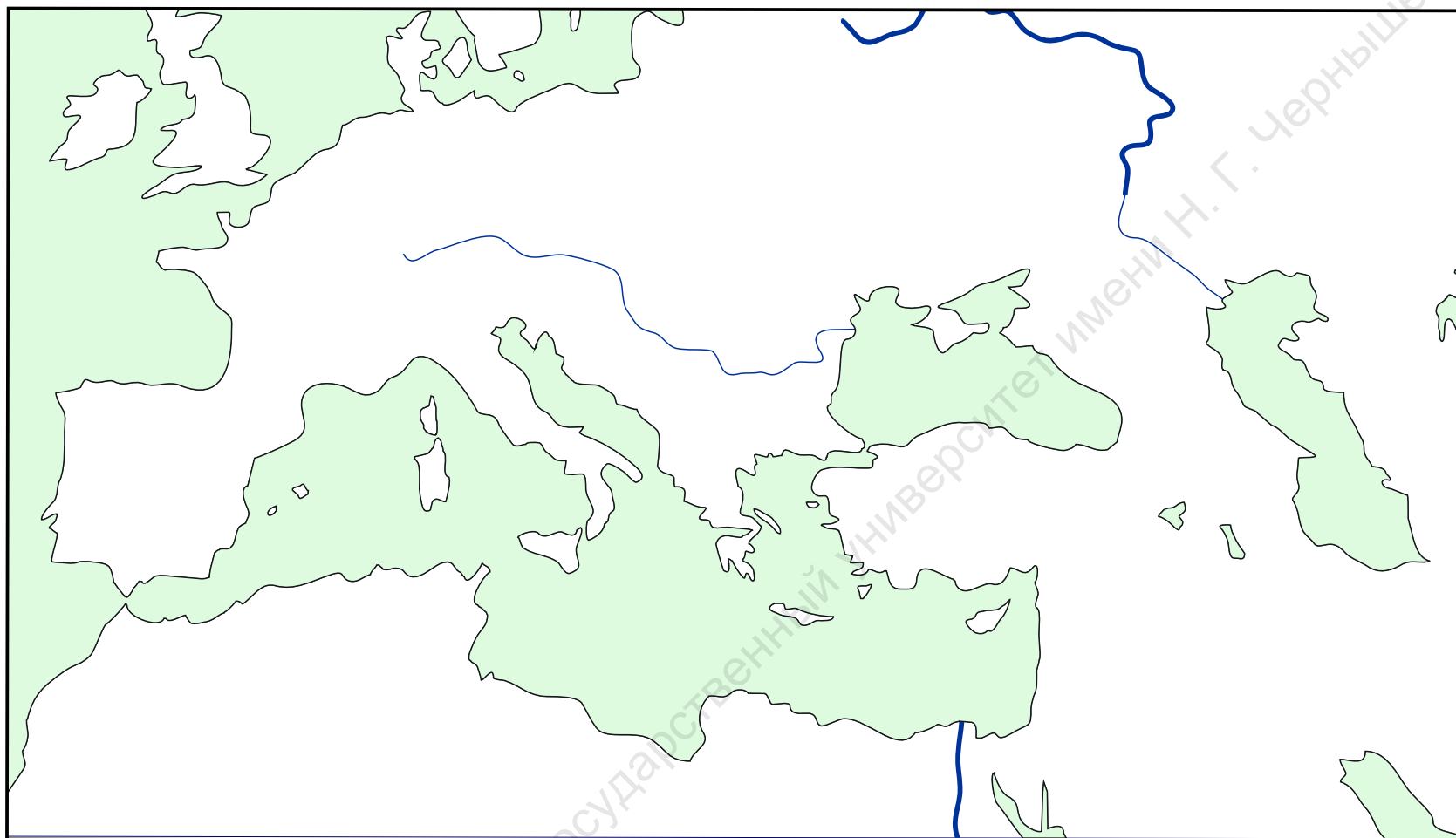
Условные обозначения



1. Укажите границы балканских провинций Рима и племенного объединения даков.
2. Обозначьте места и даты сражений Дакийской войны Домициана.
3. Изобразите ход боевых действий между римлянами и даками при Траяне.
4. Укажите границы римской провинции Дакии.

Условные обозначения

10. Падение Западной Римской империи



Условные обозначения

1. Покажите границы Римской империи в IV в. н.э., ее основные административные центры.
2. Отметьте границу раздела Римской империи в 395 г.
3. Укажите районы восстаний в Западной и Восточной империи в IV–V вв. н.э.
4. Обозначьте направления вторжения варваров.
5. Обозначьте места и даты сражений при Адрианополе и на Каталаунских полях.
6. Укажите даты образования и границы первых варварских королевств на территории Римской империи.